

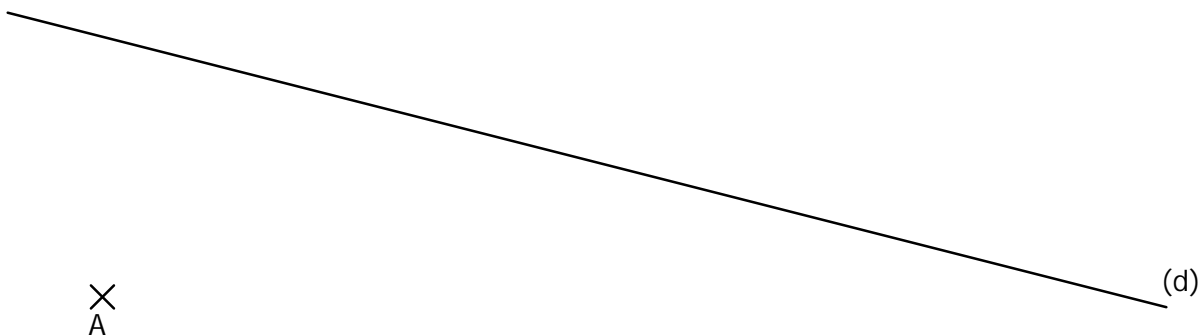
**ACTIVITE 2.1**

a. Construire les perpendiculaires à (d) passant par A, B et C :

B  
X

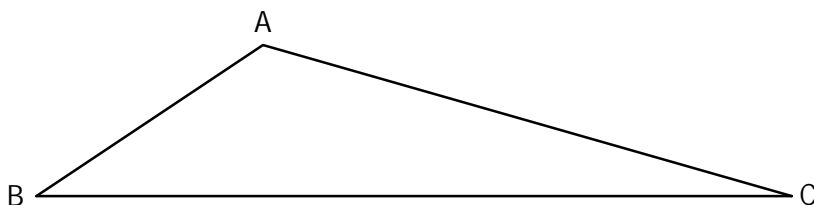
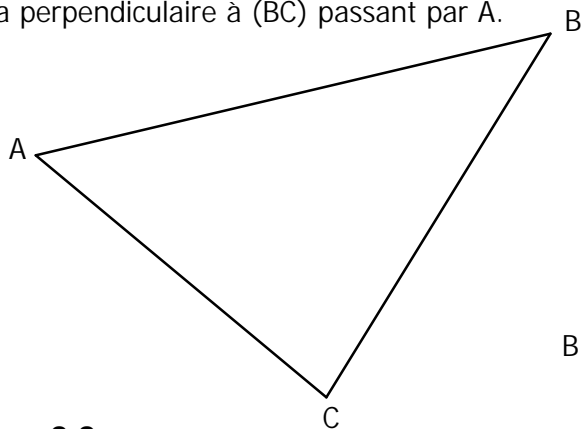
C  
X

A  
X



b. Construire dans les deux cas les hauteurs des triangles suivants, c'est à dire :

- La perpendiculaire à (AB) passant par C.
- La perpendiculaire à (AC) passant par B.
- La perpendiculaire à (BC) passant par A.



**ACTIVITE 2.2**

Dans chacun de ces triangles, repasser en rouge la hauteur :

